


# Oddział Międzyuczelniany PTTK w Warszawie



Egzamin na Organizatora Turystyki PTTK – 8.11.2005 r.

Uwagi dla zdających:

Egzamin składa się z 20 pytań pogrupowanych w 6 działów.

Punktacja dla poszczególnych pytań została przedstawiona obok.

Zaliczenie egzaminu polega na uzyskaniu ze wszystkich działów, po co najmniej po 61 punktów.

Uprzejmie prosimy o udzielanie odpowiedzi tylko w ramach wyznaczonych do tego celu miejsc i o pisanie w sposób czytelny.

*Życzymy powodzenia*

*Komisja Szkoleniowa*

Architektura		
1		50
2		20
3		30
razem		100
Historia turystyki i PTTK		
4		20
5		10
6		30
7		20
8		20
razem		100
Pierwsza pomoc		
9		22
10		30
11		48
razem		100
Etnografia i budownictwo drewniane		
12		35
13		30
14		35
razem		100
Przyroda i ochrona przyrody		
15		32
16		12
17		33
18		23
razem		100
Geografia turystyczna Polski		
19		40
20		60
razem		100

## Architektura

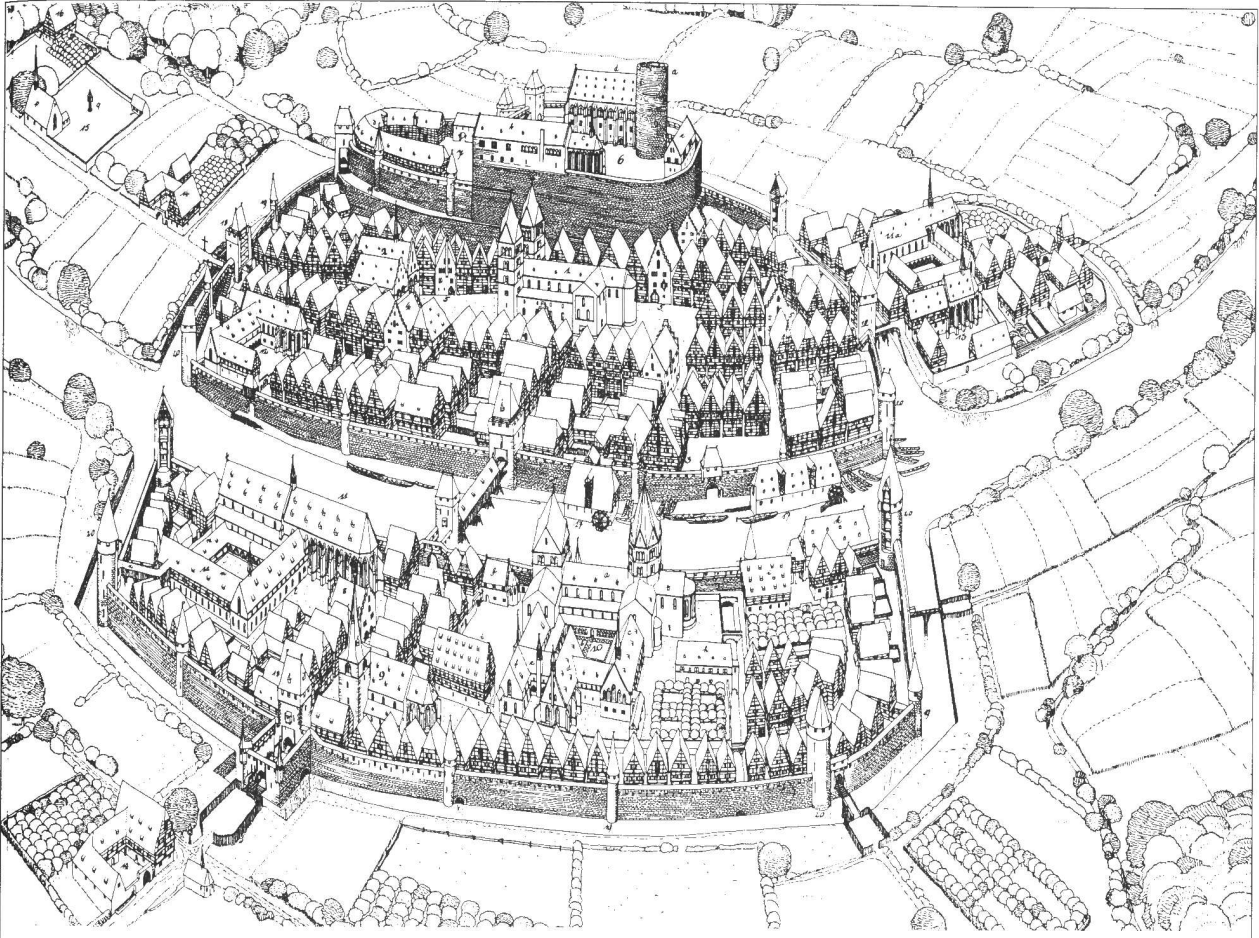
### Pytanie 1



Opisz w co najwyżej 100 słowach obiekt przedstawiony na rysunku.

*Uwaga: sprawdzający będzie czytał odpowiedź tylko do setnego słowa.*

## Pytanie 2



Zidentyfikuj i nazwij 10 elementów miasta zaznaczając je także na rysunku.

A		F	
B		G	
C		H	
D		I	
E		J	

## Pytanie 3

Wybierz trzy elementy zidentyfikowane w odpowiedzi na poprzednie pytanie i dla każdego z nich podaj opis jego funkcji.

	nazwa	funkcja
1.		
2.		
3.		

## Historia turystyki i PTTK

### Pytanie 4

Zidentyfikuj odznaki turystyki kwalifikowanej i krajoznawcze przedstawione poniżej:

### Pytanie 5

Opisz krótko uprawnienia Organizatora Turystyki PTTK.

1.	
2.	

### Pytanie 6

Wymień pełne nazwy sześciu kół należących do Oddziału Międzyuczelnianego PTTK w Warszawie.


**Pytanie 7**

Opisz krótko, czym dla polskiej turystyki zasłużyli się:

Tytus Chałubiński	
Mieczysław Karłowicz	
Mieczysław Orłowicz	
Stanisław Staszic	
Mariusz Zaruski	

**Pytanie 8**

Przypisz do dat w zamieszczonych w poniższej tabeli następujące wydarzenia:

1. Beata z Kościeleckich Łaska odbywa wycieczkę z Kieżmarku do Zielonego Stawu,
2. otwarcie 20 przejść turystycznych na granicy polsko-czeskiej (3 w Beskidzie Śląskim, reszta w Sudetach),
3. powstaje Górskiego Ochotniczego Pogotowia Ratunkowego,
4. powstaje Polskie Towarzystwo Turystyczno-Krajoznawcze (PTTK),
5. ks. Stanisław Staszic wchodzi na Babią Górę,
6. w Warszawie powstaje Polskie Towarzystwo Krajoznawcze,
7. w Zakopanem powstaje (Galicyjskie) Towarzystwo Tatrzańskie,
8. Walery Eliasz-Radzikowski znakuje (jednym paskiem koloru cynobrowego) pierwszy szlak turystyczny w Tatrach: przez Psią Trawkę i Pol. Waksmundzką do Morskiego Oka,
9. z inicjatywy Hugona Zapałowicza Oddział Babiogórski TT buduje schronisko na Markowych Szczawinach pod Babią Górą,
10. z inicjatywy Mariusza Zaruskiego i Mieczysława Karłowicza powstało Tatrzańskie Ochotnicze Pogotowie Ratunkowe.

<b>1565</b>	<b>1805</b>	<b>1873</b>	<b>1887</b>	<b>1906</b>
<b>1906</b>	<b>1909</b>	<b>1950</b>	<b>1952</b>	<b>1996</b>

## Pierwsza pomoc

### Pytanie 9

Jakie informacje powinien zawierać meldunek o wypadku w górach?

--

### Pytanie 10

Z jaką służbą połączysz się wybierając następujące numery telefonów alarmowych?

numer telefonu	służba
<b>112</b>	
<b>985</b>	
<b>999</b>	
<b>601 100 300</b>	
<b>601 300 100</b>	

### Pytanie 11

Postaw się w roli kierownika wyjazdu i wypełnij poniższą tabelę określając sposoby zapobiegania i minimalizowania skutków wystąpienia poszczególnych przypadłości u uczestników wyjazdu:

przypadłość	profilaktyka	„leczenie”
poparzenie słoneczne skóry pleców		
pęcherze na stopach		
popękane usta (zimą)		
silne łzawienie oczu (latem)		

## Etnografia i budownictwo drewniane

### Pytanie 12



Opisz w co najwyżej 100 słowach obiekt przedstawiony na rysunku uwzględniając jego konstrukcję.  
*Uwaga: sprawdzający będzie czytał odpowiedź tylko do setnego słowa.*

**Pytanie 13**

Wybierz pięć z wymienionych poniżej nazw i podaj ich krótką definicję:

ikonostas, izbica, kalenica, krokiew, łątka, płatew, soboty, socha, sygnaturka, ślemię,


**Pytanie 14**

Scharakteryzuj dowolnie wybraną z podanych mniejszości: Łemkowie, Kaszubi, Niemcy, Romowie, Tatarzy, Żydzi – uwzględniając m.in. język, wyznania, rejony zamieszkania (obecnie i w przeszłości), charakterystyczne cechy kultury, zabytki itp.



## Przyroda i ochrona przyrody

### Pytanie 15

Opisz dowolny park narodowy w Polsce uwzględniając położenie, walory przyrodnicze i turystyczne, zagospodarowanie turystyczne.

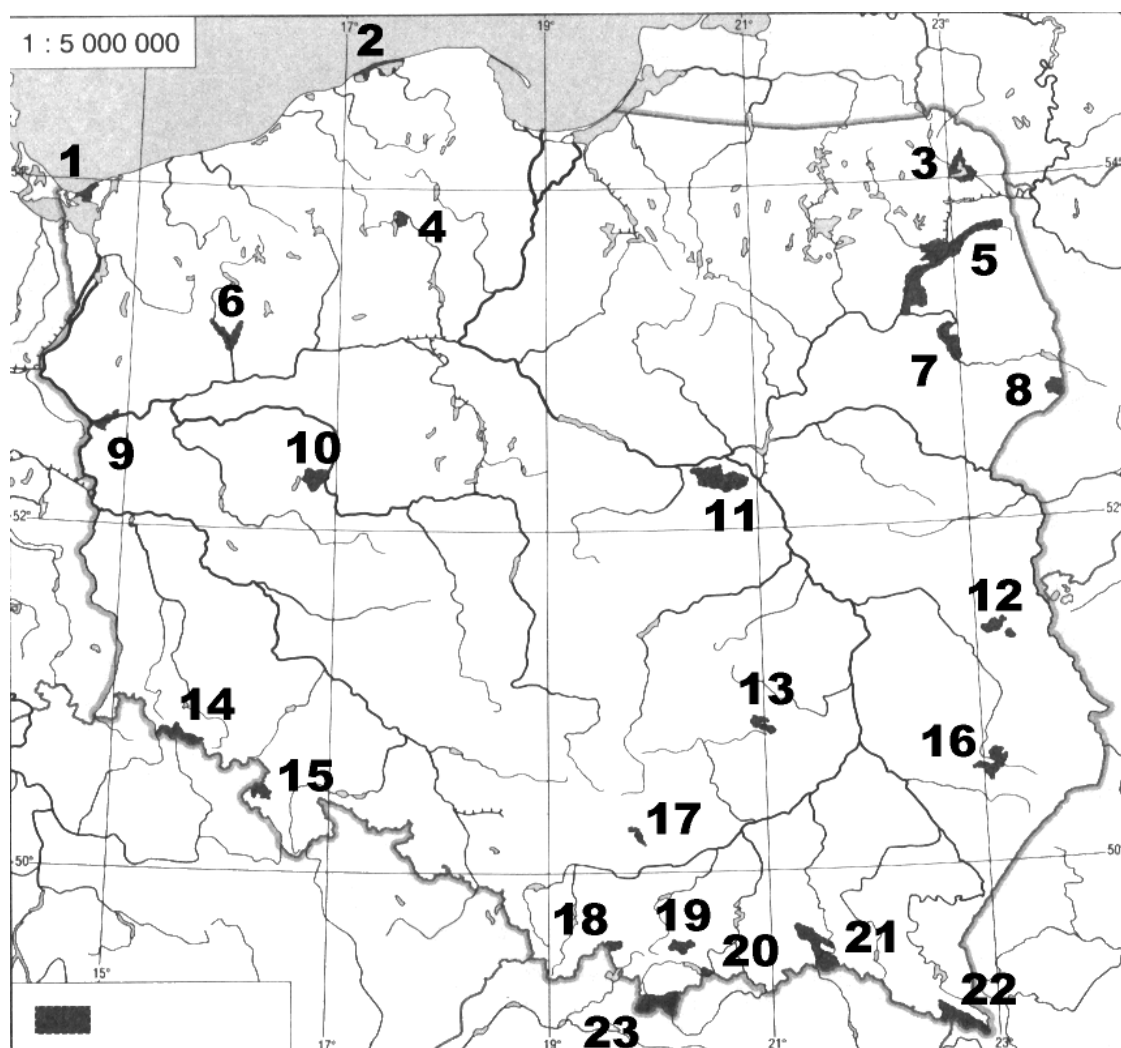
### Pytanie 16

Opisz podstawowe różnice w sposobie ochrony przyrody w parku narodowym i w parku krajobrazowym.

### Pytanie 17

Opisz dowolny typ zbiorowiska leśnego występującego w Polsce wraz z wymienieniem charakterystycznych dla nich gatunków roślin.

## Pytanie 18



Podaj nazwy zaznaczonych na mapie parków narodowych:

1.		13.	
2.		14.	
3.		15.	
4.		16.	
5.		17.	
6.		18.	
7.		19.	
8.		20.	
9.		21.	
10.		22.	
11.		23.	
12.			

## Geografia turystyczna Polski

### Pytanie 19

Zaznacz na poniższej mapie Polski położenie *dwudziestu* wybranych z poniższej listy miejsc:



1.	Babia Góra (1725)	13.	Szczecin
2.	Elbląg	14.	Tarnica (1346)
3.	Gdańsk	15.	Tarnów
4.	Hel	16.	Toruń
5.	Jez. Sulejowskie	17.	ujście Pilicy
6.	Kalwaria Zebrzydowska	18.	Węgorzewo
7.	Kłodzko	19.	Wieliczka
8.	Natęczów	20.	Włocławek
9.	Poznań	21.	Wrocław
10.	Przemyśl	22.	Zakopane
11.	Sandomierz	23.	Zamość
12.	Sanok	24.	Zielona Góra

**Pytanie 20**

Wybierz *dwadzieścia* z poniższych szczytów i określ, w jakich górach (grupach górskich) leżą.

1.	Babia Góra (1725)	
2.	Barania Góra (1220)	
3.	Giewont (1894)	
4.	Gorc (1228)	
5.	Kremenaros (1221)	
6.	Kudłoń (1276)	
7.	Lackowa (997)	
8.	Lubomir (912)	
9.	Łysica (612)	
10.	Mięguszowiecki Szczyt (2438)	
11.	Mogielica (1170)	
12.	Orlica (1084)	
13.	Radziejowa (1262)	
14.	Połonina Wetlińska (1253)	
15.	Runek (1080)	
16.	Skrzyczne (1257)	
17.	Starorobociański Wierch (2176)	
18.	Sucha Góra (592)	
19.	Szczeliniec Wielki (919)	
20.	Szrenica (1362)	
21.	Śnieżka (1603)	
22.	Śnieżnik (1425)	
23.	Tarnica (1346)	
24.	Trzy Korony (982)	
25.	Turbacz (1311)	
26.	Wysoka (1050)	